

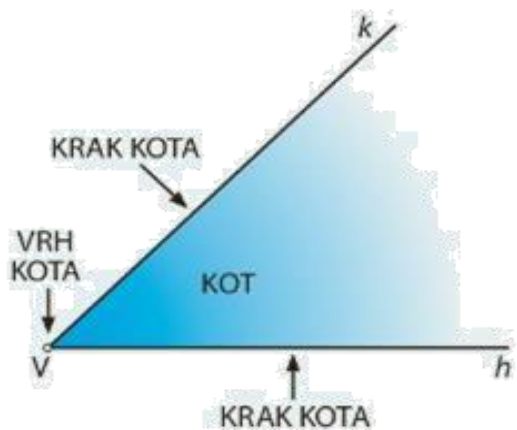
MAT 9. 12. 2020 KOTI

Oglej si posnetek »Koti« (lahko tudi večkrat), nato zapiši snov v zvezek in reši domačo nalogo.

povezava do posnetka: <https://www.youtube.com/watch?v=5yHa6ACA678>

ZAPIS V ZVEZEK

KOTI



Kot je območje v ravnini med dvema poltrakoma, ki imata izhodišče v

skupni točki. Ta točka je **vrh** kota. Poltrakoma

rečemo **kraka** kota.

S koti opisujemo medsebojno lego premic, poltrakov, daljic.

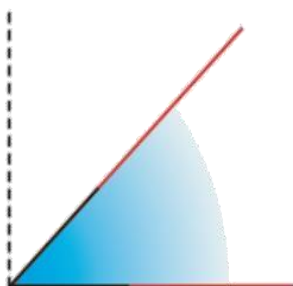


- **PRAVI KOT**



Pravi kot je kot med pravokotnima daljicama. Pravi kot meri 90° .

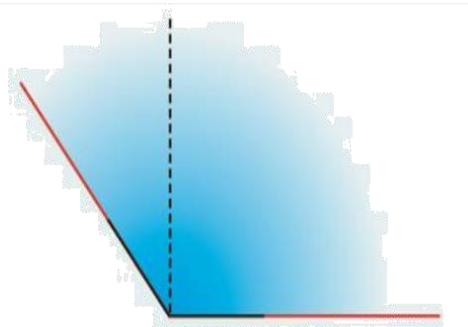
- **OSTRI KOT**



Kotu, ki je manjši kot pravi kot, pravimo **ostri kot**.

• TOPI KOT

Kotu, ki je večji kot pravi kot, pravimo **topi kot**.



Na koncu preberi snov v SDZ 1. del stran 90 do 93 in **reši** 1. in 2. nalogo na strani 93.