

MAT- Matematiko bomo imeli preko ZOOM-a ob 9h

NIT- Iz majhnega zraste veliko

Še enkrat si poglej posnetek

<https://www.youtube.com/watch?v=6Wv98xRvJ6c>

V zvezek za naravoslovje nariši življenjski krog žabe in metulja. Da ti bo lažje si ustavi posnetek.


Nariši še kako poteka razvoj pri človeku. Na pravo mesto zapiši besede SMRT, ROJSTVO, RAST IN RAZVOJ, STARANJE.

DODATNI POUK- Naloge rešite učenci, ki obiskujete dodatni pouk.

Rešuj v zvezek za matematiko. Napiši naslov Dodatni pouk in datum.


1. KAKO DOLG JE DINOZAVER?

Dinozavrov rep je dvakrat daljši od njegovega trupa, ta pa je polovico krajši od njegovega vratu (do konca nosu), ki meri 12 metrov. Koliko meri dinozaver od nosu do konca repa?




2. KOLIKO KVADRATOV?

Koliko kvadratov je skritih v vzorcu te preproge?



3. REBUSI

Reši rebusa. V kvadratke napiši rešitev.

<p>100 N</p> <p>123 T=L</p> <table border="1" data-bbox="228 1541 536 1619"><tr><td> </td><td> </td><td> </td><td> </td></tr></table>					<p></p> <p>123456</p> <table border="1" data-bbox="879 1559 1331 1637"><tr><td> </td><td> </td><td> </td><td> </td><td> </td><td> </td></tr></table>						

4. SUDOKU

Reši spodnji sudoku. Mrežo moraš s številkami od 1 do 9 zapolniti tako, da bo:

- ❖ v vsaki vrstici vseh 9 cifer in vsaka samo enkrat
- ❖ v vsakem stolpcu vseh 9 cifer in vsaka samo enkrat
- ❖ v vsakem od devetih manjših kvadratov vseh 9 cifer - spet vsaka natanko enkrat

		8		6	1		4	2
1	4		3	7		9	6	8
3		6	9		8	1	7	
	1	7		9		8		6
6	3		2	8	5		1	7
5		4		1		2	3	
	6	3	8		9	7		1
7	9	2		3	6		8	4
	5		7	2		6	9	