

MAT 15. 1. 2021 **DENAR (Vaje)**




Reši spodnji delovni list.

Če imaš možnost tiskanja, list natisni. Če ne, napiši naloge v zvezek.

Napiši naslov **Vaja** in reši spodnje naloge. Nalog ni potrebno prepisovati. Napiši zgolj 1. naloga ter napiši račun in ga izračunaj ter napiši odgovor s celim stavkom!

Vaja

1. Dopolni preglednico.

znesek			
zapis v evrih in centih			
decimalni zapis			

2. Seštej ali odštej zneske.

$$42 \text{ € } 30 \text{ centov} + 21 \text{ € } 50 \text{ centov} = \underline{\quad} \text{ € } \underline{\quad} \text{ centov}$$

$$63 \text{ € } 70 \text{ centov} - 31 \text{ € } 20 \text{ centov} = \underline{\quad} \text{ € } \underline{\quad} \text{ centov}$$

$$158,89 \text{ €} - 121,65 \text{ €} = \underline{\hspace{2cm}} \text{ €}$$

$$243,56 \text{ €} + 68,63 \text{ €} = \underline{\hspace{2cm}} \text{ €}$$

3. Reši besedilno nalogo.

Leta 2015 je povprečna neto plača v Sloveniji znašala 1013,23 €.

Leta 2016 je povprečna neto plača v Sloveniji znašala 1030,16 €.

Se je povprečna neto plača zvišala ali znižala? Za koliko?

Odgovor:

Odgovor:

4. Oglej si preglednico in odgovori na vprašanja.

ČEBELARSKI MUZEJ RADOVLJICA 12. 3. 2018, 8.00–12.00		
obiskovalci	število	cena na osebo
otroci	20	2,50 €
odrasli	53	5 €
študentje in dijaki	107	3 €



a. Koliko obiskovalcev je obiskalo muzej?

b. Koliko so plačali vsi študentje in dijaki skupaj?

c. Koliko so plačali vsi otroci in odrasli skupaj?

d. Družino Smolej sestavljajo starši in trije otroci. Koliko so vsi skupaj plačali za vstopnino?
